

**ВСЕРОССИЙСКАЯ ОЛИМПИАДА ШКОЛЬНИКОВ
ПО ИСТОРИИ. 2024–2025 УЧЕБНЫЙ ГОД
ШКОЛЬНЫЙ ЭТАП. 9 КЛАСС.**

Время на выполнение работы 90 минут.
(максимальное количество баллов - 100)

Задание 1. Выберите верный ответ (за каждый правильный ответ 2 балла, всего – 6 баллов)

1.1 В каком году произошло описанное ниже событие?

«И был тогда царь Константин, сын Льва, и пришла к нему Ольга, и, увидев, что она очень красива лицом и разумна, подивился царь ее разуму, беседуя с нею, и сказал ей: "Достойна ты царствовать с нами в столице нашей". Она же, поразмыслив, ответила царю: "Я язычница, если хочешь крестить меня, то крести меня сам – иначе не крещусь". И крестил ее царь с патриархом. <...>

- 1) 945 г. 3) 962 г.
2) 957 г. 4) 969 г.

1.2 О каком князе пишет В.О. Ключевский?

«Князь был суровый и своенравный хозяин, который во всё поступал по-своему, а не по старине и обычаю. Протгнав из Ростовской земли больших отпыхов бояр, он окружил себя такой дворней, которая в благодарность за его барские милости откровенно его убила и разграбляла его дворец».

- 1) Юрий Долгорукий 3) Андрей Боголюбский
2) Даниил Галицкий 4) Всеволод Большое Гнездо

1.3 Кто являлся первым главой Посольского приказа?

- 1) А.Л. Ордин-Нащокин 3) А.С. Матвеев
2) И.М. Висковатый 4) Л.К. Нарышкин

Ответ:

1.1	1.2	1.3
2	3	2

Задание 2. Выберите несколько верных ответов (за каждый верный ответ 1 балл, всего – 9 баллов)

2.1 Укажите имена государственных и религиозных деятелей, составивших окружение первого русского царя.

- 1) А. Курбский 4) Протопоп Сильвестр
2) А. Адашев 5) Ф. Шабовитый
3) Митрополит Алексий 6) Б. Морозов

2.2 В каких древнерусских городах в XI в. были построены соборы Святой Софии?

- 1) Переяславль-Русский 4) Чернигов
2) Полоцк 5) Киев
3) Владимир-на-Клязьме 6) Новгород


2.3 Какие из указанных ниже договоров были заключены между Русским государством и Речью Посполитой?

- 1) Деулинское перемирие 4) Ясский мир
2) Столбовский мир 5) Польновский мир

Ответ: 3) Ям-Запольский мир 6) Фридрихсгамский мир

2.1	2.2	2.3
4,2,3,4	2,5,6	1,3,5

Задание 3. Перед Вами фотографии архитектурных памятников. Расставьте их в хронологической последовательности в соответствии со временем сооружения и заполните таблицу (максимальный балл – 15 баллов).



Ответ:

Порядковый номер иллюстрации (2 балла за верную хронологию)	Правитель, при котором был построен памятник (1 балл за каждый верный элемент ответа)	События, которым посвящён памятник (1 балл за каждый верный элемент ответа)	Город, где установлен памятник (1 балл за каждый верный элемент ответа)
2	Василий III		Москва
1	Иван Грозный	взятие Казани	Москва
4	Николай I	победа над Наполеоном	Санкт-Петербург
3	Александр II		Новгород

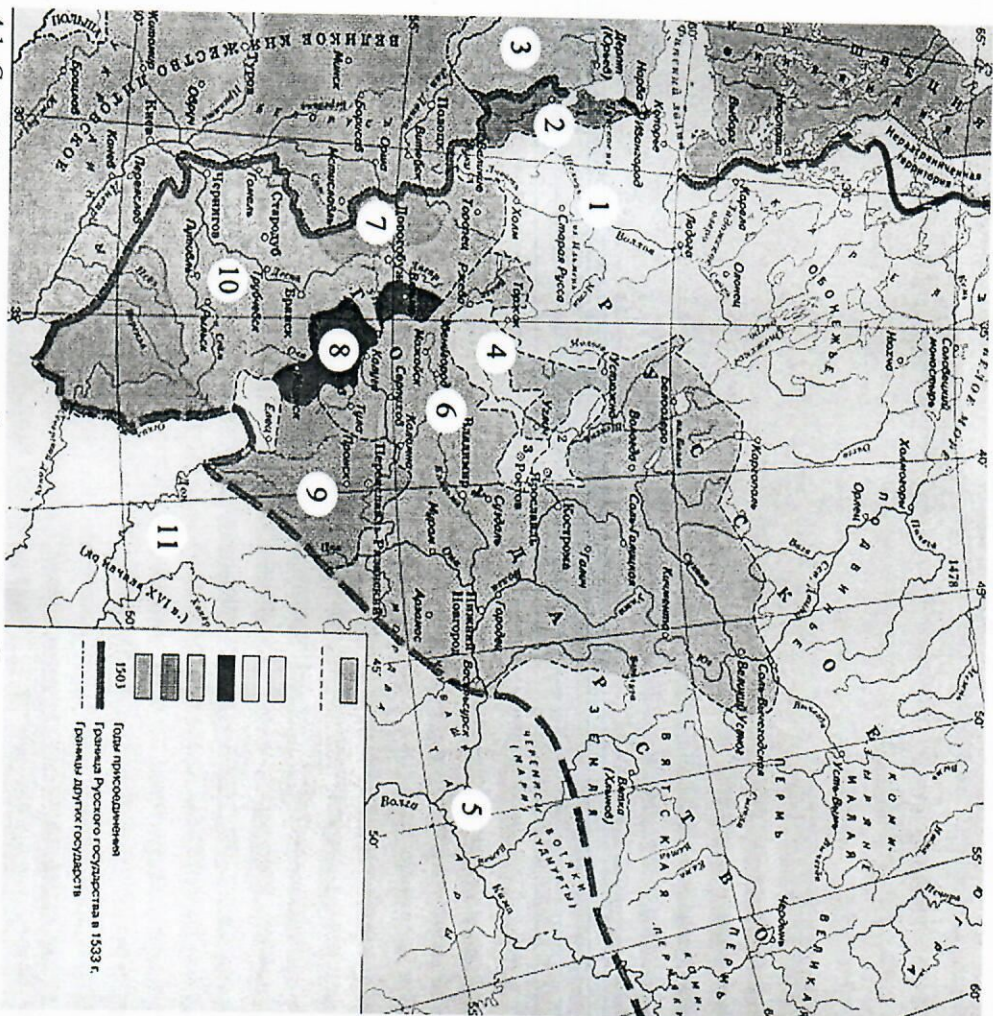
4-9-2

545

95

13

Задание 4. Внимательно рассмотрите схему и выполните задания, помещённые ниже (максимальный балл – 14 баллов)



4.1 Столица какого княжества обозначена цифрой 6? К началу правления какого князя границы этого княжества приобрели такой вид? (по 2 балла за верный ответ)

ответ Москва - Иван III всего 4 балла

4.2 Напишите цифру, которой обозначен город, где последними посадниками были представители рода Бороцких (2 балла)

1

4.3 Запишите название ханства, которое в начале XVI века захватило территории государства, обозначенное на схеме цифрой

11(2балла)
Крымское ханство
 4.4 Напишите цифры, которыми обозначены земли, присоединённые к Русскому государству: А) в 1510 г., Б) в 1514 г., В) 1521 г. Укажите столицы этих земель (по 1 баллу за каждый верный ответ, всего – 6 баллов)

Задание 5. Определите пропущенные в тексте названия, слова, имена, даты, обозначенные порядковыми номерами. При необходимости при порядковых номерах даются пояснения о характере требуемой вставки. Необходимые вставки выпишите под соответствующими номерами в помещённую ниже таблицу (1 балл за каждый верный ответ, всего – 17 баллов)

Алексей Михайлович скончался 30 января (1) г. Земский собор «назвал» Московским государем 14-летнего (2 – имя и отчество). При нём прежнюю силу при дворе приобрели (3 – фамилия боярского рода), потеснённые были родней царя Натальи Кирилловны Нарышкиной. Самой важной реформой, проведённой при (2), стала отмена (4 – название явления).

(2) скончался 27 апреля (5) года. Наследниками были его 16-летний брат (6 – имя) и 10-летний единокровный брат (7 – имя). При поддержке Н.К. Нарышкиной царём объявили (7). Однако царевна (8 – имя), сестра покойного царя, всячески пыталась посадить на престол своего родного младшего брата, а управление государством взять в свои руки. Ей это удалось после майских событий (5) года, отраженных в знаменитой опере М.П. Мусоргского, которые вошли в историю под названием (9 – название). В ходе этих событий стрельцы с пушками и знаменами двинулись к Кремлю, где обвинили Нарышкиных в гибели царевича (6) и убили близкого к Алексею Михайловичу человека, воспитателя Натальи Кирилловны и царевича (7) – боярина (10 – фамилия). В конце концов (6) и (7) вместе были венчаны на царство, однако главным царём считался старший брат (7), его мать и родня отправились в почётную ссылку в подмосковное село (11 – название села). Царевна (8) же стала (12 – название должности) – правительницей государства при малолетних братьях.

Первым человеком при царене-правительнице стал князь (13 – фамилия), по словам Куракина, «амур» и «талант» царевны. Он являлся главой (14 – название приказа) приказа, но фактически и внутреннее дела вершились по его совету. По его инициативе в 1687 г. в Москве было открыто первое высшее учебное заведение – (15 – название). Во внешней политике самыми крупными событиями стали заключение в (16) г. «Вечного мира» с Речью Посполитой и два (17 – название) похода в 1687 и 1689 гг.

Ответ:

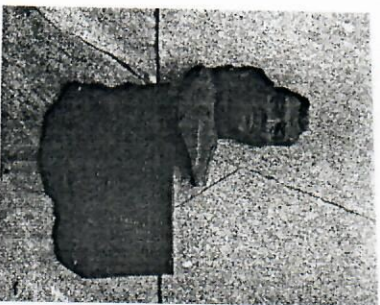
1	
2	Федора Алексеевича
3	
4	
5	1682
6	Иван
7	Петр
8	Сорья
9	
10	Артамоха
11	Преображенское
12	Регентом
13	
14	Посольского
15	Князь - греко-латинского университета
16	1686
17	Кривичи

Задание 6. Дайте краткое обоснование ряда (что объединяет перечисленные элементы с исторической точки зрения) и укажите, какой из элементов является лишним (подчеркните его) по данному основанию (по 2 балла за верное обоснование и лишний элемент и + 1 балл, если нет ошибок, всего – 9 баллов).

6.1. 1252, 1293, 1327, 1337

6.2. Кривичи, бужане, чудь, вятичи

Задание 7. На территории Красноярского края находится большое количество памятников, посвященных знаменательным событиям и людям. Посмотрите на стелу ниже и ответьте на вопросы (всего – 10 баллов)



7.1. Кому посвящена данная стела? (5 баллов)

7.2. Какая была должность этого человека в нашем городе или чем он занимался (5 баллов)

Задание 8. Выберите одну из предложенных тем и напишите по ней эссе. Максимальная оценка 20 баллов.

При написании работы постарайтесь исходить из того, что Жюри, оценивая Ваше эссе, будет руководствоваться следующими критериями:

1. Обоснованность выбора темы (объяснение выбора темы и задач, которые ставит перед собой в своей работе участник). Оценивается вводная часть к работе - не более 5 баллов. Требуется внятное оригинальное объяснение, демонстрирующее заинтересованность в теме (2 балла), и четкая постановка задач работы, исходя из понимания смысла высказывания (должно быть сформулировано 4 задачи) (3 балла).
2. Оценка основной части к работе (макс. 12 баллов):

При оценке каждой из выделенных задач учитываются:

- 1) грамотность использования исторических фактов и терминов (3 балла);
- 2) аргументированность авторской позиции (3 балла);
- 3) творческий характер восприятия темы, ее осмысления. Требуется ярко выраженная личная позиция, заинтересованность в теме, оригинальные (имеющие право на существование, исходя из фактов и историографии) мысли, задачи и пути их решения (2 балла). Работа написана хорошим литературным языком с учетом всех жанровых особенностей эссе (2 балла).
- 4) знание различных точек зрения по избранному вопросу (2 балла).

3. Умение автора делать конкретные выводы по сути своей позиции, исходя из смысла высказывания и задач, сформулированных во введении, осмысление развития своей личной позиции. Оценивается заключение к работе – не более 3 баллов.

Темы для эссе:

1. Влияние Золотой Орды на развитие Древней Руси в XIII-XV вв.
2. Петровские реформы и их оценка историками и современниками.
3. Война 1812 г. и ее влияние на развитие России в первой половине XIX в.
4. «Оттепель» и ее влияние на развитие культуры.

Итого: 100 баллов.

Вопрос влияния Золотой Орды на Русь в XIII - XV в. достаточно распространён. Одни говорят одно, другие другое. Но потяну не могут прийти к единому выводу. Есть несколько причин: неготовность показать разные обстоятельства, большой процент мензурок времени и т.д.

Моё мнение на счёт этого...

Пару слов о влиянии Золотой Орды привело к полной политической и экономической зависимости Руси. Большая часть материальной культуры Руси была уничтожена.

Насильственные батыя привело к огромным потерям населения - сотни людей были убиты или угнаны в рабство, в пожарах сгорели множество книг, памятников живописи и архитектуры.

Русь сильно отставала в развитии от других стран. Золотая Орда сильно много влияла на Русь в XIII - XV в.

развитие

20

И-9-2